

A




B



C

共通 1

このうち雌雄異花の植物はどれですか。



共通 2

この肥料の主成分は次のうちどれですか。

A 窒素

B リン酸

C カリウム



A

B

C

生活 3

このうち単子葉植物はどれですか。

74th FFJ2023 熊本大会 リハーサル大会



74th FFJ2023 熊本大会 リハーサル大会

74th FFJ2023 熊本大会 リハーサル大会

生活 4

この作物の科名は次のうちどれですか。

A ヒルガオ科

B ナス科

C サトイモ科

74th FFJ2023 熊本大会 リハーサル大会

熊本大会 リハーサル大会

2023 熊本大会 リハーサル大会



A

B

C

生活 5

このうち秋まき1年草はどれですか。

74th FFJ2023 熊本大会 リハーサル大会

74th FFJ2023 熊本大会 リハーサル大会



A

B

C

74th FFJ2023 熊本大会 リハーサル大会

生活 6

このうちナス科の草花はどれですか。

74th FFJ2023 熊本大会 リハーサル大会



A



B



C

生活 7

このうちデュラム小麦を使用している食品はどれですか。



A



B



C

生活 8

このうち大豆を使用していない食品はどれですか。

74th FFJ2023 熊本大会 リハーサル大会

74th FFJ2023 熊本大会 リハーサル大会

74th FFJ2023 熊本大会 リハーサル大会



生活 9

このフランクフルトソーセージのケーシングに用いられている天然の材料は次のうちどれですか。

A 羊腸

B 豚腸

C 牛腸

熊本大会 リハーサル大会

2023 熊本大会 リハーサル大会

74th FFJ2023 熊本大会 リハーサル大会



74th FFJ2023 熊本大会 リハーサル大会

74th FFJ2023 熊本大会 リハーサル大会

生活 10

この食品に利用されていない微生物は次のうちどれですか。

A 納豆菌


B 乳酸菌

C 麹菌

74th FFJ2023 熊本大会 リハーサル大会

74th FFJ2023 熊本大会 リハーサル大会

74th FFJ2023 熊本大会 リハーサル大会




74th FFJ2023 熊本大会 リハーサル大会

生活 11

この道具を使用しコサージを作成する目的は次のうちどれですか。

- A フォーカルポイントとして利用する
- B 花材の水分蒸発を防ぐ
- C 吸水性を向上させる

74th FFJ2023 熊本大会 リハーサル大会



生活 12

このうちサトイモ科の観葉植物はどれですか。



生活 13

この犬種のも産地は次のうちどれですか。

- A 中国
- B クロアチア
- C メキシコ

74th FFJ2023 熊本大会 リハーサル大会



74th FFJ2023 熊本大会 リハーサル大会

74th FFJ2023 熊本大会 リハーサル大会

生活 14

このうち地域資源と最も関係が深い農村体験はどれですか。

A 和紙づくり

B 丸太小屋づくり

C 土器づくり

熊本大会 リハーサル大会

2023 熊本大会 リハーサル大会

74th FFJ2023 熊本大会 リハーサル大会



74th FFJ2023 熊本大会 リハーサル大会

熊本大会 リハーサル大会

74th FFJ2023

生活 15

この和紙の原料となる植物の名前はどれですか。

A コウゾ

B ミツマタ

C トロロアオイ

74th FFJ2023 熊本大会 リハーサル大会

熊本大会 リハーサル大会

2023 熊本大会 リハーサル大会

生活 16

このうち、新生児期の特徴に当てはまらないものは次のうちどれですか。

A 生理的微笑

B 離乳食

C モロー反射

74th FFJ2023 熊本大会 リハビリ大会

74th FFJ2023 熊本大会 リハビリ大会



74th FFJ2023 熊本大会 リハビリ大会

生活 17

このうち、介護保険制度において、介護サービスを利用するための申請先はどれですか。

A 市区町村

B 都道府県

C 国

74th FFJ2023 熊本大会 リハビリ大会

熊本大会 リハビリ大会

2023 熊本大会 リハビリ大会


生活 18

このうち、1985年アメリカのある建築家が、「あらゆる人に利用しやすいデザイン」を提唱したものはどれですか。

A 次世代認定マーク

B ほじょ犬マーク

C ユニバーサルデザイン



A



B



C

生活 19

このうち、障害者のための国際シンボルマークは次のうちどれですか。

74th FFJ2023 熊本大会 リハーサル大会



生活 20

この食品に多く使用されている食品添加物は次のうちどれですか。

A 保存料

B 酸化防止剤

C 防カビ剤

74th FFJ2023 熊本大会 リハーサル大会

熊本大会 リハーサル大会
2023 熊本大会 リハーサル大会

74th FFJ2023 熊本大会 リハーサル大会



74th FFJ2023 熊本大会 リハーサル大会

74th FFJ2023 熊本大会 リハーサル大会

生活 21

74th FFJ2023 熊本大会 リハーサル大会

この食材は、食品成分表での分類上、次のうち
どれですか。

A 魚類

B きのこ類

C 海藻類


熊本大会 リハーサル大会

2023 熊本大会 リハーサル大会

74th FFJ2023 熊本大会 リハーサル大会

74th FFJ2023 熊本大会 リハーサル大会

74th FFJ2023 熊本大会 リハーサル大会



生活 22

このうち椀だねに合う鶏肉の部位は次のうちどれですか。

74th FFJ2023 熊本大会 リハーサル大会

74th FFJ2023 熊本大会 リハーサル大会

74th FFJ2023 熊本大会 リハーサル大会

74th FFJ2023 熊本大会 リハーサル大会



74th FFJ2023 熊本大会 リハーサル大会

生活 23

74th FFJ2023 熊本大会 リハーサル大会

このうち中華料理で涼拌三絲（リャンバンサンス）
を作るとき、この素材の切り方は次のうちどれです
か。

74th FFJ2023 熊本大会 リハーサル大会

A せん切り

B 乱切り

C 輪切り

熊本大会 リハーサル大会

2023 熊本大会 リハーサル大会

生活 24

このうち、主成分がポリビニルアルコール、耐熱性ポリマーなどを用いる洗濯用品は次のうちどれですか。

A 漂白剤

B 柔軟剤

C 洗濯のり

生活 25

このうち、認証マークはどれですか。

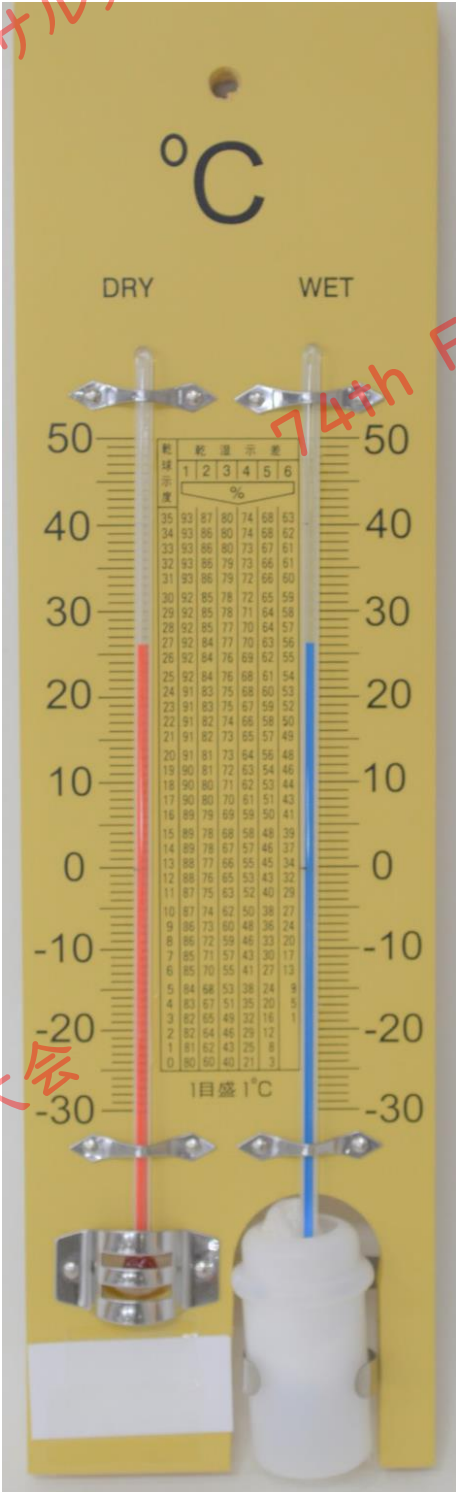
A エコマーク

B プラスチック製容器包装識別表示マーク

C ペットボトル識別表示

74th FFJ2023 熊本大会 リハーサル大会

74th FFJ2023 熊本大会 リハーサル大会



74th FFJ2023 熊本大会 リハーサル大会

共通 26

この測定器具の名前を答えなさい。

74th FFJ2023 熊本大会 リハーサル大会



共通 27

この野菜苗の器官の名前を答えなさい。

74th FFJ2023 熊本大会 リハーサル大会



74th FFJ2023 熊本大会 リハーサル大会

74th FFJ2023 熊本大会 リハーサル大会

74th FFJ2023 熊本大会 リハーサル大会

74th FFJ2023 熊本大会 リハーサル大会

生活 28

この野菜の科名を答えなさい。

74th FFJ2023 熊本大会 リハーサル大会



生活 29

この草花の名前を答えなさい。



生活 30

このトマト加工品の可溶性固形分は24%未満である。このトマト加工品の名前を答えなさい。

74th FFJ2023 熊本大会 リハーサル大会

74th FFJ2023 熊本大会 リハーサル大会



74th FFJ2023 熊本大会 リハーサル大会

74th FFJ2023 熊本大会 リハーサル大会

生活 31

この花材の形態を答えなさい。

74th FFJ2023 熊本大会 リハーサル大会



生活 32

この犬種の名前を答えなさい。



生活 33

この植物の科名を答えなさい。

74th FFJ2023 熊本大会 リハーサル大会



74th FFJ2023 熊本大会 リハーサル大会


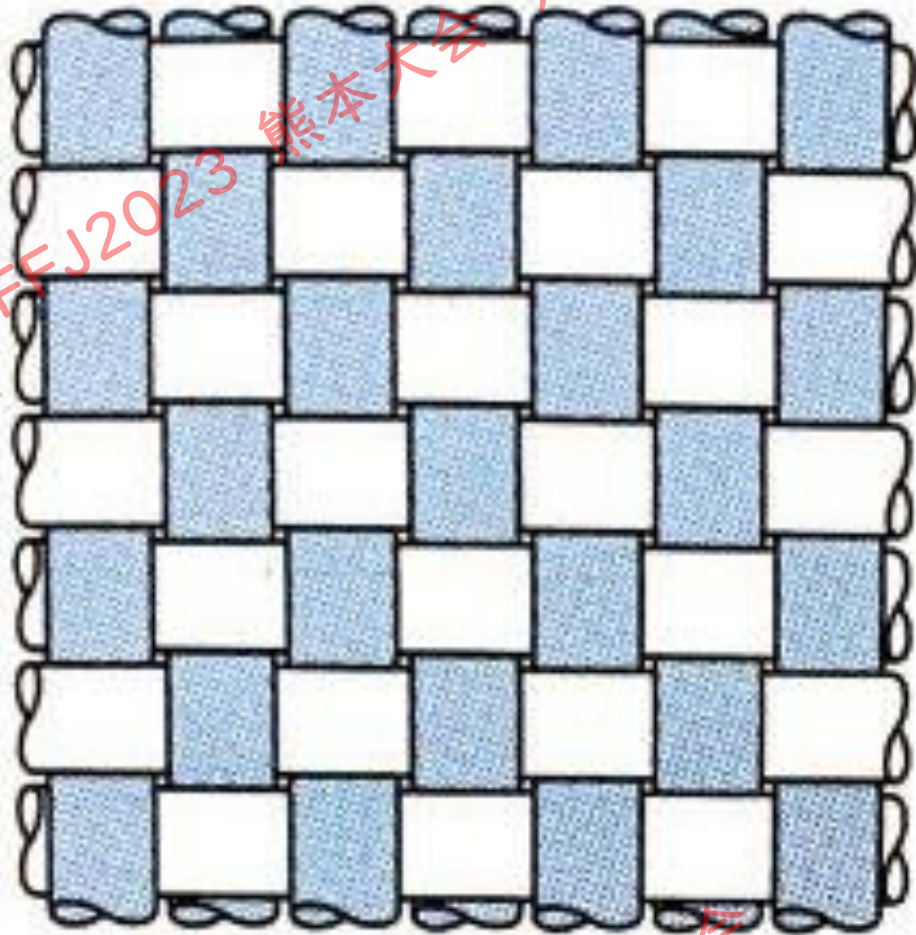
74th FFJ2023 熊本大会 リハーサル大会

生活 34

この実を粉にして作られる麺の名前を答えなさい。

熊本大会 リハーサル大会

2023 熊本大会 リハーサル大会



生活 35

この布地の織り方を答えなさい。

74th FFJ2023 熊本大会 リハーサル大会



74th FFJ2023 熊本大会 リハーサル大会



74th FFJ2023 熊本大会 リハーサル大会

生活 36


熊本大会 リハーサル大会

この国内綿製品の優れた品質をアピールし需要を
図るため、登録商標されているマークの総称を
答えなさい。

74th FFJ2023 熊本大会

熊本大会 リハーサル大会

2023 熊本大会 リハーサル大会



生活 37

この写真の起居様式は何か答えなさい。

74th FFJ2023 熊本大会 リハーサル大会



74th FFJ2023 熊本大会 リハーサル大会

74th FFJ2023 熊本大会 リハーサル大会

生活 38

74th FFJ2023 熊本大会 リハーサル大会

このキャッシュカードや通帳などを使って、現金の引き出しや預け入れを行う機械名を漢字で答えなさい。

熊本大会 リハーサル大会

2023 熊本大会 リハーサル大会

74th FFJ2023 熊本大会 リハーサル大会

74th FFJ2023 熊本大会 リハーサル大会

74th FFJ2023 熊本大会 リハーサル大会

生活 39

ペチュニアの鉢替えをするため用土を 1m^3 用意した。

1つの鉢に400ml使用すると何鉢できるか求めなさい。

(単位をつけなさい)

74th FFJ2023 熊本大会 リハーサル大会

74th FFJ2023 熊本大会 リハーサル大会

74th FFJ2023 熊本大会 リハーサル大会

生活 40

しょうゆを大さじ3、小さじ2で取り分けた。全部で何gになるか求めなさい。単位を付けなさい。